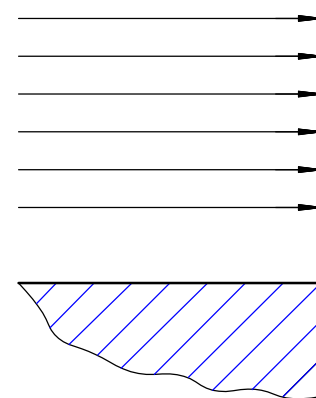
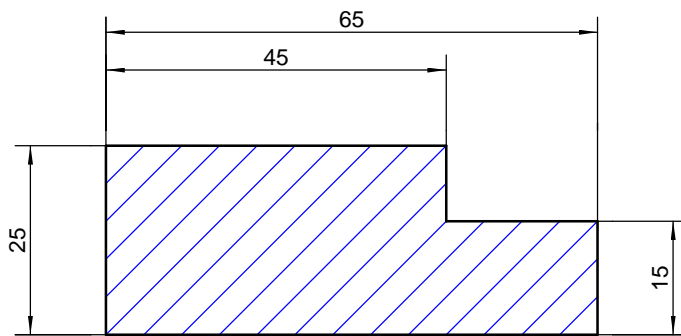


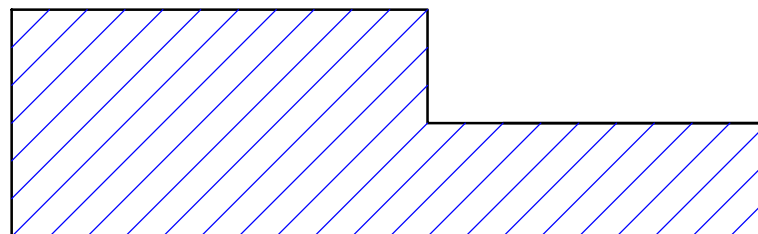
Maßhilfslinie Maßlinie Maßzahl Maßpfeil



Bemaßungsregeln:

Ergänze den Text mit: "Maßhilfslinien", "über", "2H", "mm", "mm", "einmal", "rechts", "2", "3", "5", "10".

1. In einer Technischen Zeichnung wird jedes Maß nur _____ eingetragen.
2. **Maßzahlen** geben das tatsächliche Maß eines Werkstücks in _____ an.
Die Maßeinheit (_____) entfällt!
Maßzahlen werden in der Mitte _____ die Maßlinie geschrieben, $h = \text{_____ mm}$.
Senkrechte Maße müssen von _____ lesbar sein!
3. **Maßhilfslinien** zeichnet man durch "Verlängern" der Umrisslinien. Sie sollten sich nach Möglichkeit nicht kreuzen und _____ mm über den Maßpfeil hinausragen.
4. **Maßlinien** werden parallel zur Körperkante zwischen die _____ gezeichnet. Der Abstand zu den Körperkanten beträgt _____ mm, zur jeweils nächsten Maßlinie _____ mm!
5. Die gesamte **Bemaßung** zeichnen wir mit dem Bleistift _____ !



1-Grundregeln-Bemaßung.cad

Benennung:

GRUNDREGELN DER BEMASSUNG

Blatt-Nr:

Maßstab:

Geprüft:

Datum:

Name:

Klasse: