



Welche Münze fehlt zum Betrag?

Cent = Ct



Beispiel:

Die fehlende Münze so eintragen.

Du kannst die Münze auch anmalen.

5 Ct

2 Ct

5 Ct

2 Ct

5 Ct

2 Ct

4 Ct

1 Ct

5 Ct

1 Ct

8 Ct

1 Ct

6 Ct

2 Ct

2 Ct

1 Ct

9 Ct

1 Ct

7 Ct

2 Ct

7 Ct

5 Ct

7 Ct

2 Ct

9 Ct

2 Ct

9 Ct

1 Ct

10 Ct




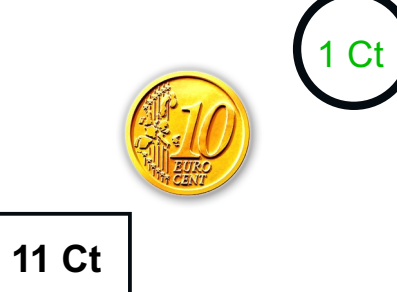











1 Ct



Welche Münze fehlt zum Betrag?

Cent = Ct















































 <p>1 Ct</p> <p>10 Ct</p>	 <p>2 Ct</p> <p>10 Ct</p>	 <p>1 Ct</p> <p>10 Ct</p>
 <p>1 Ct</p> <p>11 Ct</p>	 <p>1 Ct</p> <p>11 Ct</p>	 <p>2 Ct</p> <p>11 Ct</p>
 <p>2 Ct</p> <p>12 Ct</p>	 <p>1 Ct</p> <p>12 Ct</p>	 <p>2 Ct</p> <p>12 Ct</p>
 <p>2 Ct</p> <p>14 Ct</p>	 <p>1 Ct</p> <p>13 Ct</p>	 <p>2 Ct</p> <p>13 Ct</p>
 <p>10Ct</p> <p>12 Ct</p>	 <p>10Ct</p> <p>14 Ct</p>	 <p>5 Ct</p> <p>15 Ct</p>



Welche Münze fehlt zum Betrag?

Cent = Ct










































  2 Ct 14 Ct	   2 Ct 15 Ct	 10 Ct 15 Ct
    1 Ct 15 Ct	   2 Ct 19 Ct	   2 Ct 17 Ct
  1 Ct 16 Ct	    1 Ct 18 Ct	   5 Ct 19 Ct
  10 Ct 17 Ct	   10 Ct 19 Ct	    1 Ct 18 Ct
  10 Ct 12 Ct	    2 Ct 20 Ct	    1 Ct 20 Ct



Welche Münze fehlt zum Betrag?

Cent = Ct



 20 Ct	10 Ct	 20 Ct	 5 Ct	 25 Ct	5 Ct
 21 Ct	1 Ct	 25 Ct	 5 Ct	 24 Ct	 2 Ct
 25 Ct	   5 Ct	 28 Ct	  5 Ct	 26 Ct	 1 Ct
 28 Ct	    2 Ct	 27 Ct	  1 Ct	 26 Ct	  1 Ct
 27 Ct	 5 Ct	 29 Ct	  2 Ct	 29 Ct	    1 Ct



Welche Münze fehlt zum Betrag?

Cent = Ct


















 30 Ct	 30 Ct	 31 Ct
 35 Ct	 35 Ct	 35 Ct
 34 Ct	 32 Ct	 37 Ct
 36 Ct	 38 Ct	 38 Ct
 39 Ct	 39 Ct	 40 Ct



Welche Münze fehlt zum Betrag?

Cent = Ct



 20 Ct 40 Ct	 5 Ct 40 Ct	 2 Ct 40 Ct
 20 Ct 40 Ct	 10 Ct 40 Ct	 10 Ct 40 Ct
 5 Ct 45 Ct	 10 Ct 45 Ct	 20 Ct 47 Ct
 2 Ct 48 Ct	 2 Ct 49 Ct	 10 Ct 50 Ct
 20 Ct 50 Ct	 10 Ct 50 Ct	 5 Ct 50 Ct