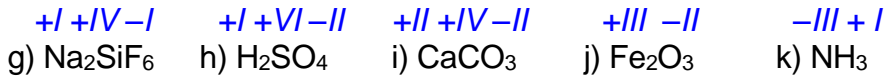
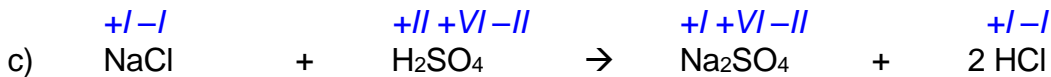
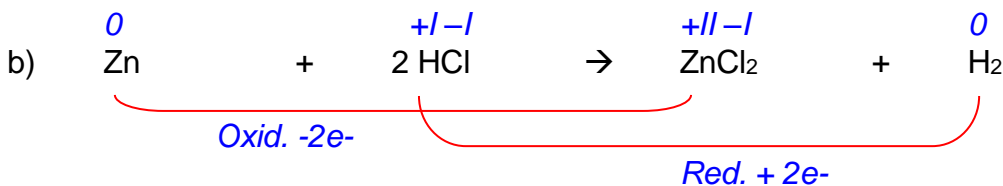
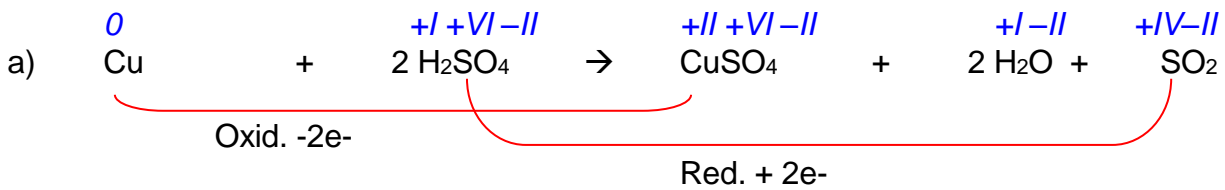


# Übungsaufgaben: Redoxreaktionen, Lösung

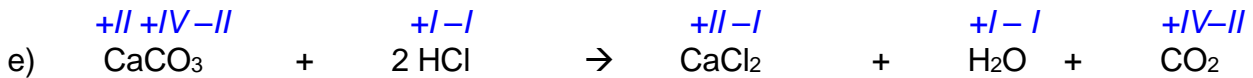
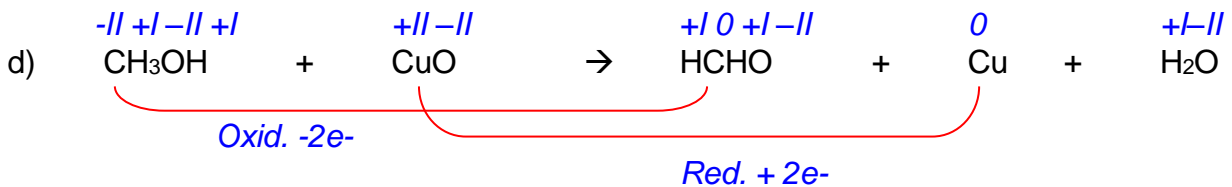
1. Bestimmen Sie die Oxidationszahlen der beteiligten Elemente folgender Verbindungen:



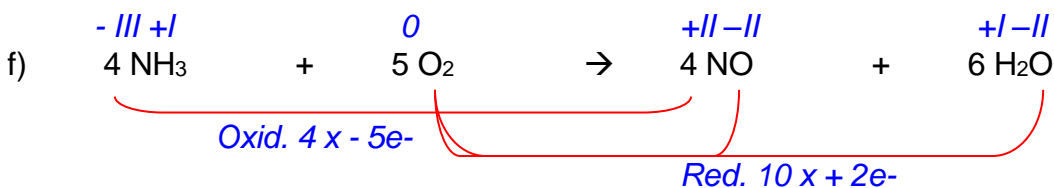
2. Überprüfen Sie, ob es sich bei folgenden Reaktionen um Redoxreaktionen handelt:



→ keine Elektronenübergänge → keine Redoxreaktion → Protolyse



→ keine Elektronenübergänge → keine Redoxreaktion → Protolyse



# Übungsaufgaben: Redoxreaktionen, Lösung

---

